
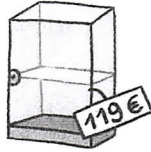


CALCUL MENTAL

Écrire au tableau des calculs du type : $7 \text{ € } 50 \text{ c} + 2 \text{ € } 50 \text{ c}$. → Faire écrire le résultat.

.....

1 La responsable du musée a besoin d'une nouvelle vitrine. A-t-elle assez d'argent ?




Oui, car elle a 120 €

Nino veut acheter une loupe pour les enquêtes. A-t-il assez d'argent ?



Oui, car il a 6 € 40 c

2 Combien d'euros le client va-t-il payer ?



① 50 c
3 € 20 c
6 €
80 c

10 € 50 c

Le client va payer 10 € 50

3 Combien d'euros rendra-t-on à chacun de ces clients ?

a. Natacha achète un livre à 36 €, elle donne un billet de 100 €.

Où lui rendra 64 €

b. Fabio achète des chaussons de danse à 37 € 70 c. Il donne un billet de 50 €.

Il lui rend 12 € 30 c

100
- 36

64

50 € 00
- 37 € 70

12 € 30

4 Pour acheter un ordinateur à 467 €, Iris a 3 billets de 100 €, 3 billets de 50 €, 1 billet de 10 €, 1 pièce de 2 € et 2 pièces de 50 c. A-t-elle assez d'argent pour acheter l'ordinateur ? Si non, combien d'euros lui manque-t-il ?

Non, elle n'a pas assez d'argent



~~467 €~~ 100 € 100 €
100 € 50 € 50 € 50 €
10 € 2 € 50 c 50 c

463 €