


**CALCUL MENTAL**

Énoncer des soustractions du type :  
375 - 50, 958 - 400.

.....	.....	.....	.....	.....
-------	-------	-------	-------	-------



Pour résoudre les problèmes de cette page, commence par compléter le schéma. Cela t'aidera à trouver le calcul à effectuer.

\*

**1** Le requin-tigre est âgé de 4 ans. La murène a 2 ans de plus que le requin. Quel est l'âge de la murène ?

9 .....	
4	2

$$4 + 2 = 6$$

La murène a 6 ans

\*

**2** L'hippocampe bleu a donné naissance à 28 petits et l'hippocampe jaune à 17 petits. Combien d'hippocampes bleus de plus que d'hippocampes jaunes sont-ils nés ?

28..	
17..	9

$$\begin{array}{r} 28 \\ - 17 \\ \hline 11 \end{array}$$


11 hippocampes bleus de plus sont nés

\*\*

**3** Anaé pèse 36 kg. Elle pèse 4 kg de moins que Louis. Combien de kilogrammes pèse Louis ?

9 .....	
36.	4.

$$\begin{array}{r} 36 \\ + 4 \\ \hline 40 \end{array}$$




Louis pèse 40 kg

\*\*

**4** Mei mesure 1 m 30 cm. Elle mesure 15 cm de plus que Zélie. Combien de centimètres mesure Zélie ?

1 m 30 cm	
9	15 cm

$$\begin{array}{r} 1\text{ m } 30\text{ cm} \\ - 15\text{ cm} \\ \hline 1\text{ m } 15\text{ cm} \end{array}$$



Zélie mesure 1 m 15 cm

\*\*\*

**5** Nino a réalisé le schéma suivant pour trouver la solution d'un problème de mathématiques. Observe-le bien et écris l'énoncé du problème que Nino est en train de résoudre.

Sarah ?	
Liana a 10 livres.	2 livres



Liana a 10 livres, Sarah en a 2 de plus qu'elle. Combien de livres a Sarah ?