

Manipulation  
Guide p. 46

**CALCUL MENTAL**  
Faire écrire le double de nombres compris entre 30 et 90.

.....


.....

.....


.....

.....

**1** Un danseur doit se placer exactement au milieu de la scène.  
Repère le milieu et marque-le d'une croix.



Utilise ta règle graduée.



**2** Avec ta règle, mesure la longueur du segment [AB] puis place son milieu C.

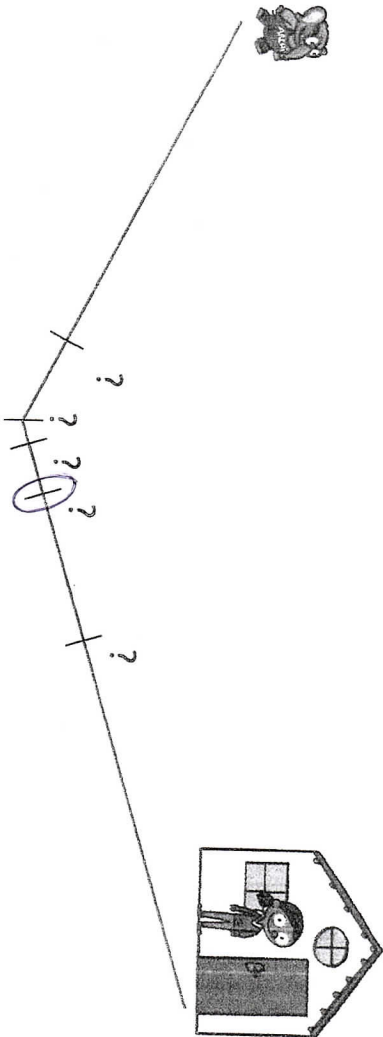


Longueur du segment : 6 cm.....

**3** Trace un segment [DE] de 3 cm.  
Prolonge le segment pour que E soit le milieu de [DF].



**4** Archi se rend chez Lali. Il veut se reposer au milieu du trajet.  
Entoure l'endroit où Archi va se reposer.



**5 PROBLÈME** La cheffe d'orchestre du spectacle a cassé sa baguette, il ne lui en reste que la moitié.  
Trace un segment de longueur égale à la baguette entière.

