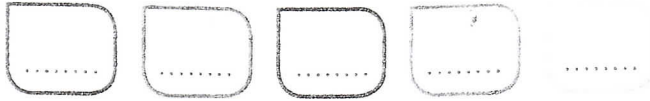



## CALCUL MENTAL

Énoncer des soustractions (nombres à 2 chiffres).



\*

- 1 Parmi les élèves de CM1, 16 portent des lunettes et 36 n'en portent pas. Combien y a-t-il d'élèves de CM1 ?




$$\begin{array}{r} \textcircled{1} \\ 36 \\ + 16 \\ \hline 52 \end{array}$$

Il y a 52 élèves de CM1

Il y a 52 élèves de CM1

\*

- 2 Un spectacle doit être joué 85 fois. 43 représentations ont déjà eu lieu. Combien de représentations doivent encore être jouées ?



$$\begin{array}{r} 85 \\ - 43 \\ \hline 42 \end{array}$$

42 représentations doivent encore être jouées.

\*\*

- 3 Dans une salle de spectacle, il y a 64 chaises. Aujourd'hui, 90 spectateurs sont présents. Combien de chaises manque-t-il pour que tous les spectateurs soient assis ?

Il manque 46 chaises pour que tous les spectateurs soient assis.

$$\begin{array}{r} 90 \\ - 56 \\ \hline 46 \end{array}$$

\*\*

- 4 Dans l'aquarium de l'école, il y a 26 poissons rouges, 31 poissons noirs, 17 poissons blancs et des poissons jaunes. Il y a 88 poissons en tout. Combien y a-t-il de poissons jaunes dans l'aquarium ?

Il y a 14 poissons jaunes dans l'aquarium.

$$\begin{array}{r} \textcircled{1} \\ 26 \\ + 31 \\ + 17 \\ \hline 74 \end{array} \quad \begin{array}{r} 88 \\ - 74 \\ \hline 14 \end{array}$$