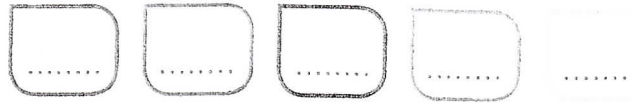


CALCUL MENTAL
Énoncer des additions (nombres à 2 chiffres).

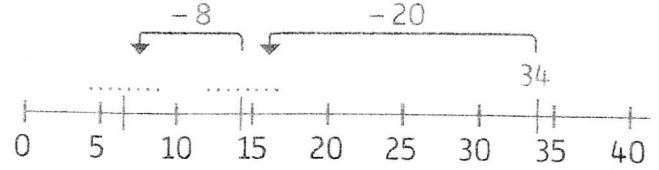


Manipulation
Guide p. 34

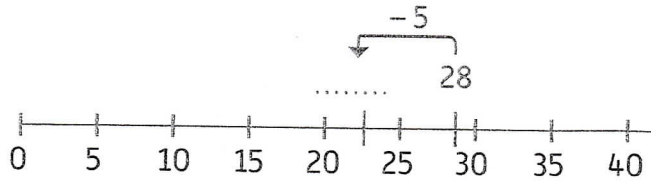
1 Utilise la demi-droite graduée pour calculer en ligne comme Agatha.



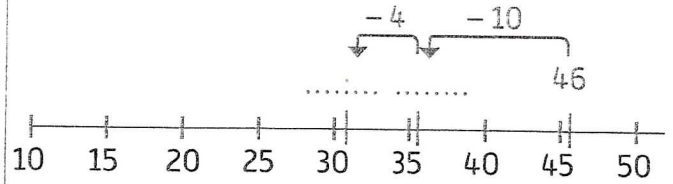
Pour calculer $34 - 28$, je fais des sauts en reculant sur la demi-droite graduée :



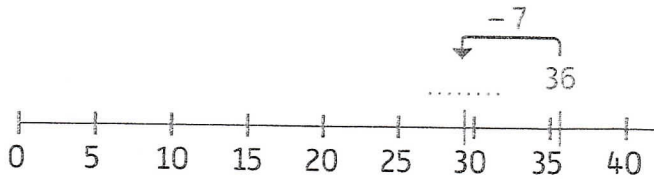
$28 - 5 = \dots\dots\dots$



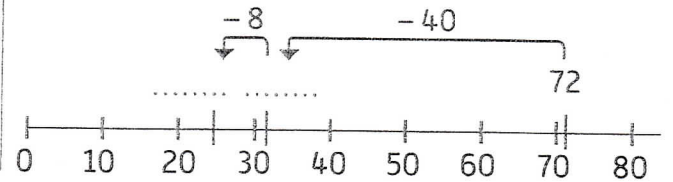
$46 - 14 = \dots\dots\dots$



$36 - 7 = \dots\dots\dots$

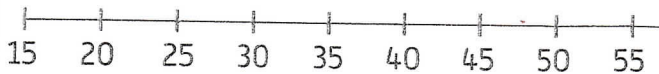


$72 - 48 = \dots\dots\dots$



2 Utilise la demi-droite graduée pour calculer en ligne.

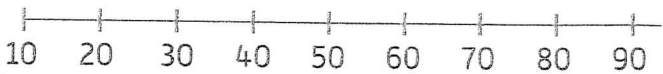
$52 - 29 = \dots\dots\dots$



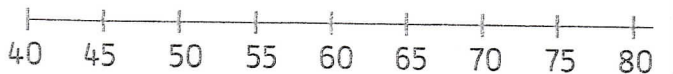
$97 - 25 = \dots\dots\dots$



$90 - 55 = \dots\dots\dots$



$72 - 13 = \dots\dots\dots$



3 **PROBLÈME** Nino possède 42 BD, 63 figurines et 56 peluches.

a. Il a prêté 8 BD à Lali. Combien de BD lui reste-t-il ?

.....

b. Il ne retrouve que 47 figurines. Combien de figurines a-t-il perdues ?

.....

c. Il donne 18 peluches. Combien de peluches lui restera-t-il ?

.....