

CALCUL MENTAL

Énoncer deux nombres
(du type : 6 d 7 u et 6 d 9 u)
et faire écrire le plus grand.

.....


.....

.....

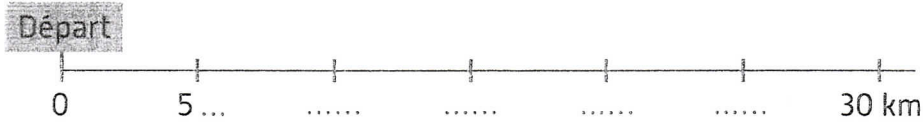
.....

.....

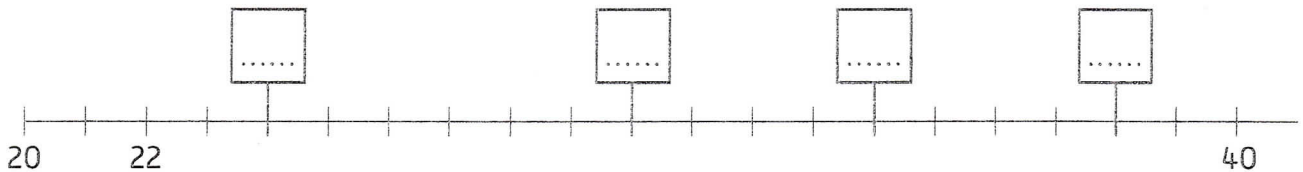
1 Quatre cyclistes participent à une course.
Voici la distance parcourue par chacun.



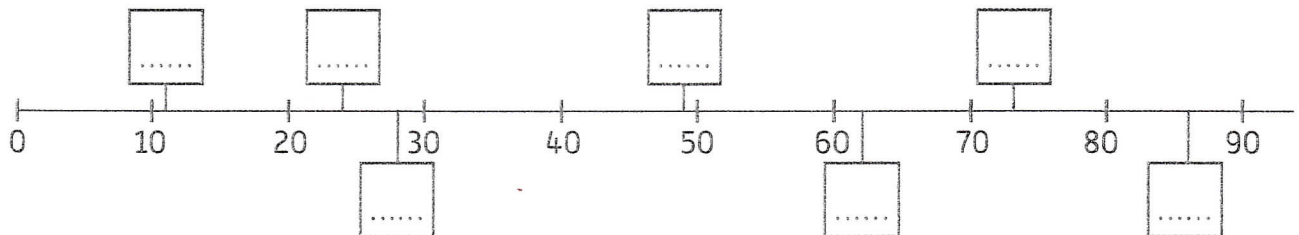
Complète la demi-droite graduée. Entoure la distance parcourue par chaque cycliste de la couleur de son maillot.



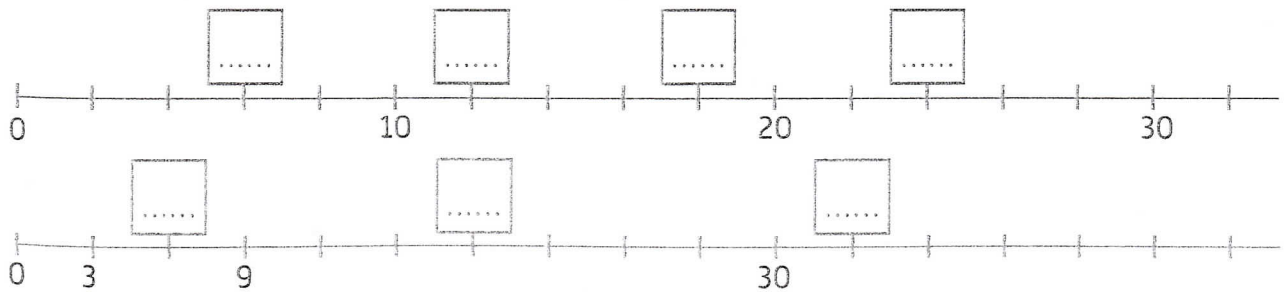
2 Complète chaque case avec le nombre correspondant.



3 Place les nombres suivants dans les cases correspondantes : 24 , 11 , 49 , 62 , 86 , 73 , 28 .



4 Complète chaque case avec le nombre correspondant. Observe bien les graduations.



5 Gradue la droite de 10 en 10 à l'aide du gabarit fourni dans le matériel.

