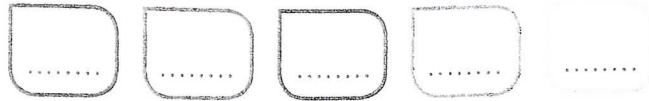



## CALCUL MENTAL

Énoncer des soustractions (nombres à 2 chiffres).




- \*  
1 Parmi les élèves de CM1, 16 portent des lunettes et 36 n'en portent pas. Combien y a-t-il d'élèves de CM1 ?



.....

.....

- \*  
2 Un spectacle doit être joué 85 fois. 43 représentations ont déjà eu lieu. Combien de représentations doivent encore être jouées ?



.....

.....

- \* \*  
3 Dans une salle de spectacle, il y a 64 chaises. Aujourd'hui, 90 spectateurs sont présents. Combien de chaises manque-t-il pour que tous les spectateurs soient assis ?

.....

.....

.....

.....

- \* \*  
4 Dans l'aquarium de l'école, il y a 26 poissons rouges, 31 poissons noirs, 17 poissons blancs et des poissons jaunes. Il y a 88 poissons en tout. Combien y a-t-il de poissons jaunes dans l'aquarium ?

.....

.....

.....

.....