


Les nombres jusqu'à 999

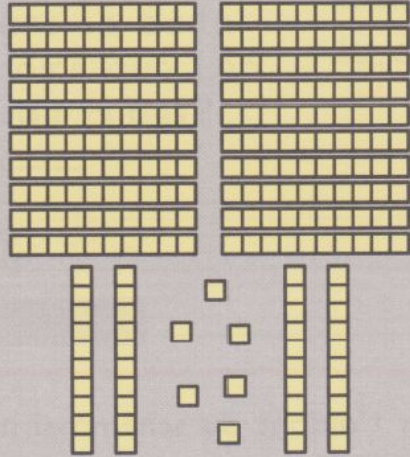
✓ Je sais écrire les nombres jusqu'à 999.

246

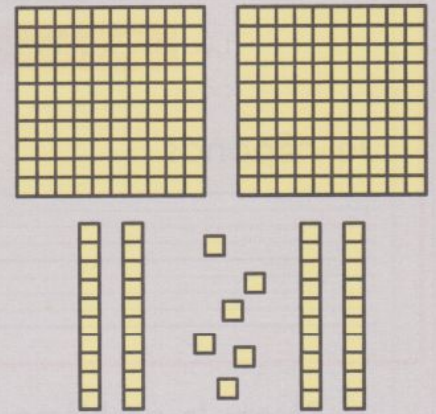
c'est 246u



c'est aussi 24d 6u

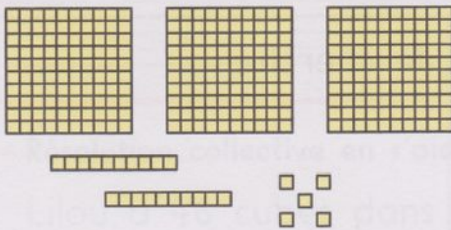


c'est aussi 2c 4d 6u




Complète.


1




Il y a centaines, dizaines et unités.



Il y a centaines, dizaines et unités.




Il y a centaines, dizaines et unités.




Il y a centaines, dizaine et unités.

Observe les cartes et complète.


2



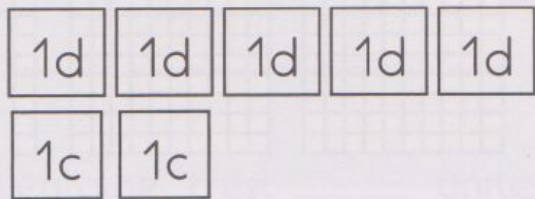
Il y a centaines, dizaines et unités.



Il y a centaines, dizaine et unités.



Il y a centaines, dizaines et unités.



Il y a centaines, dizaines et unité.

Écris le nombre qui convient.

3



5 centaines et 3 dizaines: **530**

35 dizaines:

5 centaines et 3 unités:

30 dizaines et 5 unités:

3 centaines et 5 dizaines:

50 dizaines et 3 unités:

3 centaines et 5 unités:

53 dizaines: