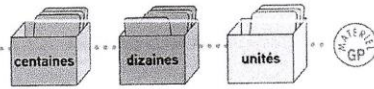


Lire, écrire, décomposer les nombres de 0 à 999 (2)

Découvrons ensemble





Léa et Théo tirent chacun deux cartes.

Reproduis le tableau et écris les chiffres des cartes des enfants dans ce tableau.

Complète avec des zéros pour trouver le nombre obtenu par chaque enfant.



c	d	u
7	2	0
8	0	3



Écris le nombre de Théo en chiffres : 720

Écris le nombre de Léa en chiffres : 803

Recopie et complète.

$720 = 700 + 20$

Recopie et complète.

$803 = 800 + 3$

Écris ce nombre en lettres.

Sept cent vingt

Écris ce nombre en lettres.

huit cent trois

Je m'entraîne

Écris les nombres en t'aidant du tableau de numération.

Entoure en bleu le chiffre des centaines, en vert celui des dizaines et en jaune celui des unités.

a) b)

Écris en chiffres. 370 700 580 121

trois cent soixante-dix ; sept cents ; cinq cent quatre-vingts ; cent vingt et un.

quatre cent deux ; neuf cent trente ; trois cent sept ; cinq cent quatre-vingt-douze.
402 930 307 592

Recopie et complète le tableau suivant l'exemple.

207	deux cent sept	$200 + 7$	2 c 7 u
530	cinq cent trente	$500 + 30$	5 c 3 d
450	quatre cent cinquante	$400 + 50$	4 c 5 d
906	neuf cent six	$900 + 6$	9 c 6 u

Devinette

Je suis un nombre de 3 chiffres. Si on m'ajoute 8 centaines, tous mes chiffres sont alors égaux à 9. Qui suis-je ?

199



Le coin du chercheur

Quel est le double du double de 10 ?



40