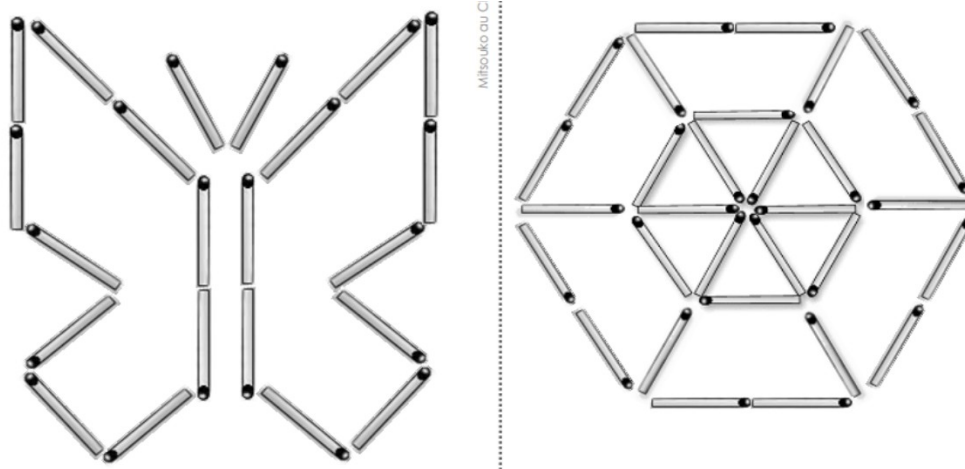


VENDREDI 03/04

Rituels – 10 min

Reproduire ces figures avec des allumettes.



Orthographe – 20 min

Etape 1 : Dictée de syllabes et mots contenant le son « gn » :

gna, ugnno, gnou, grognner, soigne, montagne

Ecriture – 20 min

Je fais ma page d'écriture.

Encodage : j'écris les mots correspondants aux images (agneau - baignoire)

Lecture – 30 min

- Lire le texte.
- Faire les petits exercices de compréhension.

Mathématiques - 30 min

Problèmes – les nombres jusqu'à 39 – Les formes géométriques

Facultatifs


Réalisation d'un pot à crayon (voir à la fin).

Compter en anglais : http://www.maxetom.com/jeux_langues/apprendre-a-compter-en-anglais-1

Avec l'aide du schéma tu peux réaliser un vélo avec des formes géométriques découpées sur papier. N'oublie pas le guidon et la selle !



Le garçon s'est cogné la tête contre
la poignée.



eau



ai



Je suis...

Samedi, Léa a mis la jupe de Mamie Julie.

Léa a dit :

– Je suis Mamie! Je suis jolie!

Léo a ri.

Alors Léo a mis le pull de Papy. Léo a dit :

– Je suis Papy! Je lis!

Puis Léo a filé à vélo...

– Salut, madame Léa!

Jules a vu le joli pull de Papy sur Léo.

Jules a dit :

– Oh! le pull de Papy!

La vis du vélo l'a déchiré!

Papy arrache la vis.

Il répare le vélo.

Papy dit :

– Je suis fort!



1. Entoure la bonne réponse

Léo a mis le pull

- de papa
- de tonton
- de papy

Léa a mis le jupe de mamy

- lundi
- samedi
- mercredi

2. Répond aux questions suivantes :

- Quel est l'objet qui a déchiré le pull de papy ?

C'est

- Comment s'appelle la mamy de Léa ?

Elle

3. Complète avec l'aide de tes parents.

Je découpe Je colle

UN VÉLO

selle guidon pédale garde-boue roue

Activer Windows
Accédez aux pa

Mathématiques

1 Fais le schéma. Il y a 6 pommes et 4 fraises.

Écris l'opération qui indique combien il y a de fruits.

.....

2 Fais le schéma. J'ai 10 fleurs. Je jette les 3 fleurs fanées.

Écris l'opération qui indique combien il reste de fleurs.

.....

3 Fais le schéma. Il y a 5 papillons roses et 2 papillons bleus.

Écris l'opération qui indique combien il y a de papillons.

.....

1 Complète jusqu'à 39.


28	29	30									
----	----	----	--	--	--	--	--	--	--	--	--

2 Entoure la bonne étiquette.



Il y a 27 ballons. Il y a 38 ballons. Il y a 37 ballons.

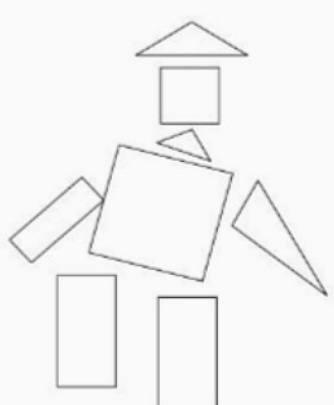
3 Écris le nombre total d'anneaux.



Il y a anneaux.

2 Colorie le robot :

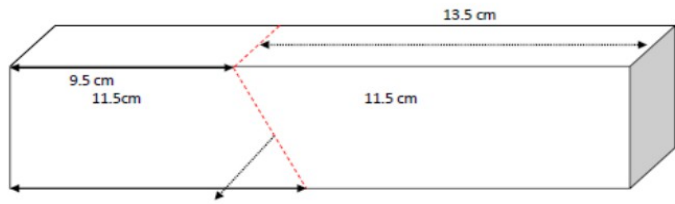
- les carrés en rouge ;
- les rectangles en vert ;
- les triangles en bleu.



Fabriquer un pot à crayons à partir d'un paquet de gâteaux, colle et morceaux de magazines (ici catalogue de jouets).

Paquet de Gâteaux de cette forme, avec ouverture au milieu (célèbre marque de biscuits recouverts de chocolat dont il ne faut pas jurer qu'on n'en mangera qu'un!!!)

Il faut découper sur les pointillés rouges.



On fait même chose sur l'autre face.

