
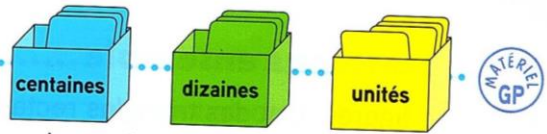


Lire, écrire, décomposer les nombres de 0 à 999 (1)

Découvrons ensemble

Théo et Léa tirent une carte de chaque boîte.

Reproduis le tableau et écris les chiffres des cartes des enfants dans ce tableau.



| | | |
|---|---|---|
| c | d | u |
| | | |
| | | |

J'ai obtenu sept cent vingt-trois !

Écris le nombre de Théo en chiffres :

Recopie et complète.

... = ... centaines ... dizaine ... unités


... = ... + ... + ...

Écris ce nombre en lettres.

Recopie et complète.

$723 = \dots + \dots + \dots$

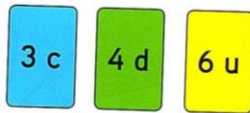
723, c'est ... c ... d ... u.



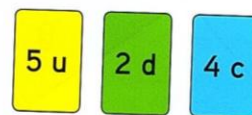
Je m'entraîne

1 Écris les nombres de Léa et de Théo, puis entoure leur chiffre des centaines.

a



b



2 Écris en chiffres.

- a
- cent trente-huit
 - deux cent soixante-trois
 - sept cent quarante-cinq

- b
- cent quatre-vingt-deux
 - cent soixante-huit
 - trois cent soixante-dix-neuf

3 Recopie et complète le tableau suivant l'exemple.

| | | | |
|------|-------------------------|----------------|-------------|
| 247 | deux cent quarante-sept | $200 + 40 + 7$ | 2 c 4 d 7 u |
| | cinq cent trente-deux | | |
| | | $300 + 50 + 8$ | |
| | | | 6 c 2 d 5 u |

J'ai déjà appris

4 Mesure la longueur de chaque segment.

