


11

Dénombrer une collection (2)

Découvrons ensemble

Combien de spectateurs assistent à cette course ?




Sois malin ! Ne compte pas les spectateurs un à un.




... spectateurs assistent à cette course.

Je m'entraîne

1 Écris le nombre de timbres.



Les grandes plaques de timbres ont le même nombre de timbres.



2 Combien de billes Emma possède-t-elle ?



3 Problème

Trace sur ton cahier un quadrillage de 15 carreaux de longueur et 10 carreaux de largeur.

Colorie 132 carreaux.



J'ai déjà appris

4 Mesure les longueurs des segments AB, BC et AC. Que peux-tu en déduire ?

