

Angle droit et équerre


Découvrons ensemble

Construis un gabarit d'angle droit.

Observe l'équerre de ta trousse.

À l'aide du gabarit d'angle droit, **trouve** l'angle droit de ton équerre.

Recopie la lettre qui correspond à l'angle droit de cette équerre.



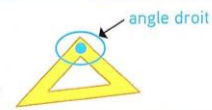
Observe comment placer l'équerre pour tracer un angle droit.



angle droit <

À l'aide de l'équerre, **trace** des angles droits sur une feuille de papier uni.

Place une gomme sur l'équerre de ta trousse pour repérer l'angle droit.

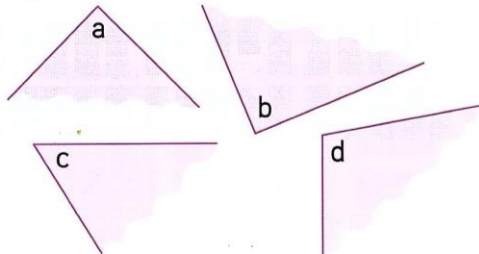


Je m'entraîne

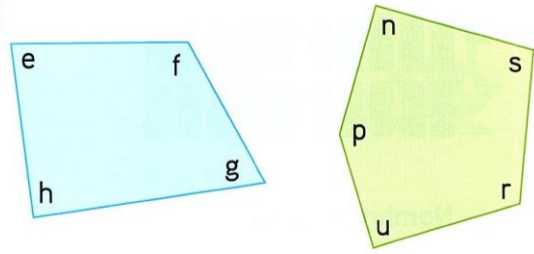
1 **Utilise** ton équerre pour trouver les angles droits.

Recopie les lettres correspondant aux angles droits.

a



b



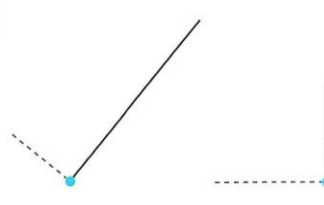
2 **Reproduis** les dessins sur papier uni et **trace** les angles droits.

Les sommets ou un des côtés sont déjà tracés.

a



b



Pense à retourner ton équerre !



J'ai déjà appris

3 **Écris** en chiffres.

soixante-quinze ; quatre-vingt-douze ; soixante-dix-neuf.